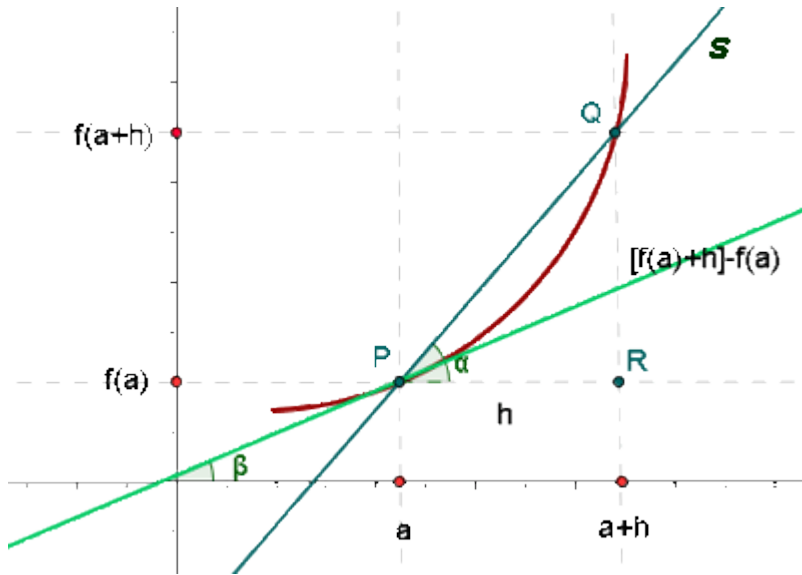


Aplicaciones de la derivada

Ecuación de la recta tangente



La pendiente de la recta tangente a una curva en un punto es la derivada de la función en dicho punto.

$$\operatorname{tg}\beta = \lim_{h \rightarrow 0} \frac{\Delta y}{h} = f'(a)$$

La recta tangente a una curva en un punto $x=a$ es aquella que pasa por el punto $(a, f(a))$ y cuya pendiente es igual a $f'(a)$.

$$y - f(a) = f'(a)(x - a)$$

Ejemplo:

Hallar la ecuación de la recta tangente a la parábola $y = x^2 - 5x + 6$ paralela a la recta $3x + y - 2 = 0$.

Sea el punto de tangencia $(a, f(a))$

$$m = -3$$

$$f'(a) = 2a - 5$$

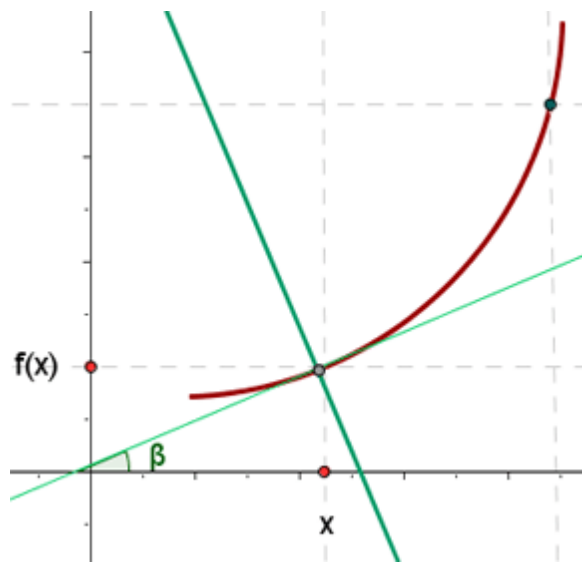
$$2a - 5 = -3a = 1$$

$$P(1, 2)$$

$$y - 2 = -3(x - 1)$$

$$y = -3x + 5$$

Ecuación de la recta normal



La pendiente de la recta normal a una curva en un punto es la opuesta de la inversa de la pendiente de la recta tangente, por ser rectas perpendiculares entre sí.

$$m_n = -\frac{1}{m_t}$$

Es decir, es la opuesta de la inversa de la derivada de la función en dicho punto.

$$m_n = -\frac{1}{f'(a)}$$

La ecuación de la recta normal a una curva en el punto (a, f(a)) será pues:

$$y - f(a) = -\frac{1}{f'(a)}(x - a)$$

Ejemplo:

Hallar la ecuación de la recta tangente y normal a la parábola $y = x^2 + x + 1$ paralela a la bisectriz del primer cuadrante.

Sea el punto de tangencia (a, b)

$$m = 1$$

$$f'(a) = 2a + 1 = 1 \quad a = 0$$

Punto de tangencia: (0, 1)

Recta tangente:

$$y - 1 = x \quad \mathbf{y = x + 1}$$

Recta normal:

$$m = -1$$

$$y - 1 = -x \quad \mathbf{y = -x + 1}$$

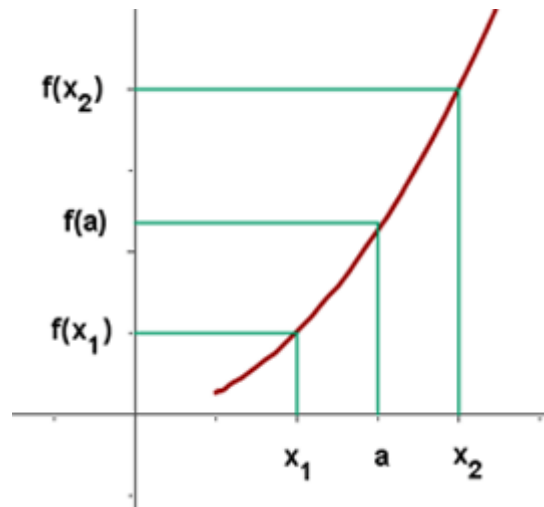
Crecimiento y decrecimiento

Función estrictamente creciente

f es estrictamente creciente en $a \Leftrightarrow \exists E(a) / \forall x \in E(a)$:

$$x > a \Rightarrow f(x) > f(a)$$

$$x < a \Rightarrow f(x) < f(a)$$

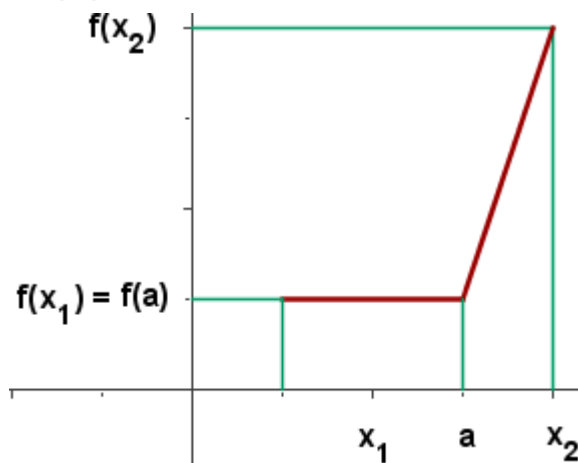


Función creciente

f es creciente en $a \Leftrightarrow \exists E(a) / \forall x \in E(a)$:

$$x > a \Rightarrow f(x) \geq f(a)$$

$$x < a \Rightarrow f(x) \leq f(a)$$

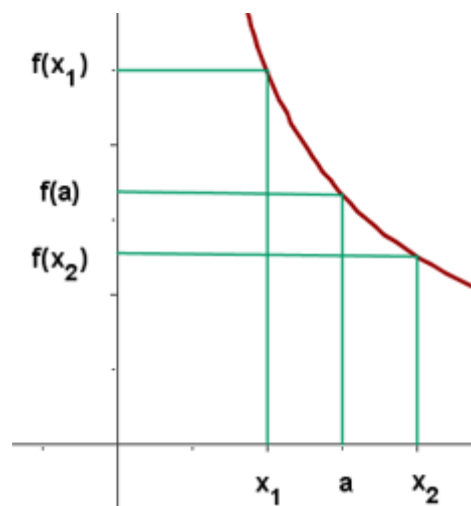


Función estrictamente decreciente

f es estrictamente decreciente en $a \Leftrightarrow \exists E(a) / \forall x \in E(a)$:

$$x > a \Rightarrow f(x) < f(a)$$

$$x < a \Rightarrow f(x) > f(a)$$

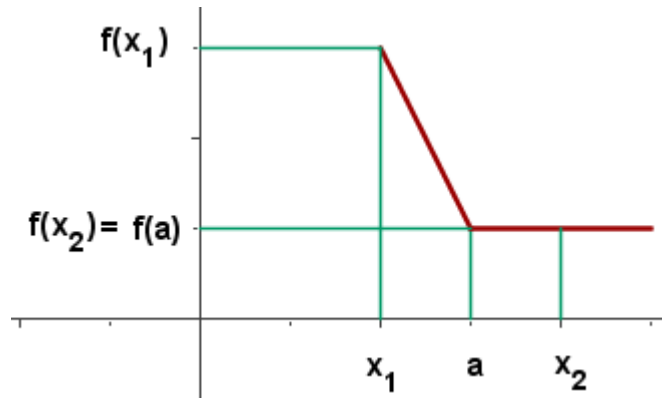


Función decreciente

f es decreciente en $a \Leftrightarrow \exists E(a) / \forall x \in E(a)$:

$$x > a \Rightarrow f(x) \leq f(a)$$

$$x > a \Rightarrow f(x) \leq f(a)$$



Intervalos de crecimiento y decrecimiento

Crecimiento

Si f es derivable en a :

f es estrictamente creciente en $a \Rightarrow f'(a) > 0$

Decrecimiento

Si f es derivable en a :

f es estrictamente decreciente en $a \Rightarrow f'(a) < 0$

Ejemplo:

Estudiar los **intervalos de crecimiento y decrecimiento** de:

$$f(x) = x^3 - 3x + 2$$

Para hallar su crecimiento y decrecimiento vamos a realizar los siguientes pasos:

1. Derivar la función.

$$f'(x) = 3x^2 - 3$$

2. Obtener las raíces de la derivada primera, para ello hacemos: $f'(x) = 0$.

$$3x^2 - 3 = 0 \quad x = -1 \quad x = 1$$

3. Formamos intervalos abiertos con los ceros (raíces) de la derivada primera y los puntos de discontinuidad (si los hubiese)



4. Tomamos un valor de cada intervalo, y hallamos el signo que tiene en la derivada primera.

Si $f'(x) > 0$ es creciente.

Si $f'(x) < 0$ es decreciente.

Del intervalo $(-\infty, -1)$ tomamos $x = -2$, por ejemplo.

$$f'(-2) = 3(-2)^2 - 3 > 0$$

Del intervalo $(-1, 1)$ tomamos $x = 0$, por ejemplo.

$$f'(0) = 3(0)^2 - 3 < 0$$

Del intervalo $(1, \infty)$ tomamos $x = 2$, por ejemplo.

$$f'(2) = 3(2)^2 - 3 > 0$$



5. Escribimos los intervalos de crecimiento y decrecimiento:

De crecimiento: $(-\infty, -1) \cup (1, \infty)$

De decrecimiento: $(-1, 1)$

Ejemplo:

Estudiar los intervalos de crecimiento y decrecimiento de:

$$f(x) = \frac{x^3}{(x-1)^2}$$

Dominio

$$(x-1)^2 = 0 \quad x = 1 \quad D = \mathbb{R} - \{1\}$$

$$f'(x) = \frac{x^3 - 3x^2}{(x-1)^3} \quad \frac{x^3 - 3x^2}{(x-1)^3} = 0$$

$$x = 0 \quad x = 3$$

x	$(-\infty, 0)$	$(0, 1)$	$(1, 3)$	$(3, \infty)$
$f'(x)$	+	+	-	+
	↗	↗	↘	↗

Creciente

$$(-\infty, 0) \cup (0, 1) \cup (3, \infty)$$

Decreciente

$$(1, 3)$$

Extremos relativos o locales: máximos y mínimos

Si f es derivable en a , a es un **extremo relativo o local** si:

1. Si $f'(a) = 0$.
2. Si $f''(a) \neq 0$.

Máximos relativos o locales

Si f y f' son derivables en a , a es un **máximo relativo o local** si se cumple:

1. $f'(a) = 0$
2. $f''(a) < 0$

Mínimos relativos o locales

Si f y f' son derivables en a , a es un **mínimo relativo o local** si se cumple:

1. $f'(a) = 0$
2. $f''(a) > 0$

Ejemplo:

Estudiar los máximos y mínimos de:

$$f(x) = x^3 - 3x + 2$$

Para hallar sus extremos locales, seguiremos los siguientes pasos:

1. **Hallamos la derivada primera y calculamos sus raíces.**

$$f'(x) = 3x^2 - 3 = 0$$

$$x = -1 \quad x = 1.$$

2. **Realizamos la 2ª derivada, y calculamos el signo que toman en ella los ceros de derivada primera y si:**

$$f''(x) > 0 \text{ Tenemos un mínimo.}$$

$$f''(x) < 0 \text{ Tenemos un máximo.}$$

$$f''(x) = 6x$$

$$f''(-1) = -6 \text{ Máximo}$$

$$f''(1) = 6 \text{ Mínimo}$$

3. **Calculamos la imagen (en la función) de los extremos relativos.**

$$f(-1) = (-1)^3 - 3(-1) + 2 = 4$$

$$f(1) = (1)^3 - 3(1) + 2 = 0$$

$$\text{Máximo}(-1, 4) \text{ Mínimo}(1, 0)$$

Concavidad y convexidad

Si f y f' son derivables en a

$$\begin{cases} f''(a) > 0 \Rightarrow f \text{ es c\u00f3ncava en } a \\ f''(a) < 0 \Rightarrow f \text{ es convexa en } a \end{cases}$$

Se adopta el criterio de que el valle tiene forma c\u00f3ncava y la monta\u00f1a forma convexa.

Ejemplo:

Estudiar los intervalos la concavidad y la convexidad de la funci\u00f3n:

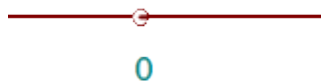
$$f(x) = x^3 - 3x + 2$$

Para estudiar la concavidad y la convexidad, efectuaremos los siguientes pasos:

1. Hallamos la derivada segunda y calculamos sus ra\u00edces.

$$f''(x) = 6x - 6 = 0 \Rightarrow x = 1$$

2. Formamos intervalos abiertos con los ceros (ra\u00edces) de la derivada segunda y los puntos de discontinuidad (si los hubiese).



3. Tomamos un valor de cada intervalo, y hallamos el signo que tiene en la derivada segunda.

Si $f''(x) > 0$ es c\u00f3ncava.

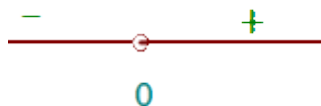
Si $f''(x) < 0$ es convexa.

Del intervalo $(-\infty, 0)$ tomamos $x = -1$, por ejemplo.

$$f''(-1) = 6(-1) - 6 = -12 < 0 \text{ Convexa.}$$

Del intervalo $(0, \infty)$ tomamos $x = 1$, por ejemplo.

$$f''(1) = 6(1) - 6 = 0 \text{ C\u00f3ncava.}$$



4. Escribimos los intervalos:

Concavidad: $(0, \infty)$

Convexidad: $(-\infty, 0)$

Ejemplo de intervalos de concavidad y convexidad

$$f(x) = \frac{x^3}{(x-1)^2}$$

Dominio

$$(x-1)^2 = 0 \quad x = 1 \quad D = \mathbb{R} - \{1\}$$

$$f'(x) = \frac{x^3 - 3x^2}{(x-1)^3} \quad \frac{x^3 - 3x^2}{(x-1)^3} = 0$$

$$f''(x) = \frac{6x}{(x-1)^4} \quad \frac{6x}{(x-1)^4} = 0$$

$$x = 0$$

x	$(-\infty, 0)$	$(0, 1)$	$(1, \infty)$
$f''(x)$	-	+	+
	∩	∪	∪

Cóncava

$$(0, 1) \cup (1, \infty)$$

Convexa

$$(-\infty, 0)$$

Puntos de inflexión de una función

Son puntos en los que la función cambia de cóncava a convexa o viceversa.

Si f y f' son derivables en a

a es un punto de inflexión $\Rightarrow f''(a) = 0$

$$f'''(a) \neq 0$$

Ejemplo:

Calcular los puntos de inflexión de:

$$f(x) = x^3 - 3x + 2$$

Para hallar los puntos de inflexión, seguiremos los siguientes pasos:

1. Hallamos la derivada segunda y calculamos sus raíces.

$$f''(x) = 6x \quad 6x = 0 \quad x = 0.$$

2. Realizamos la derivada tercera, y calculamos el signo que toman en ella los ceros de derivada segunda y si:

Optimización de funciones

Pasos para la resolución de problemas de optimización

1. Se plantea la función que hay que maximizar o minimizar.

2. Se plantea una ecuación que relacione las distintas variables del problema, en el caso de que haya más de una variable.

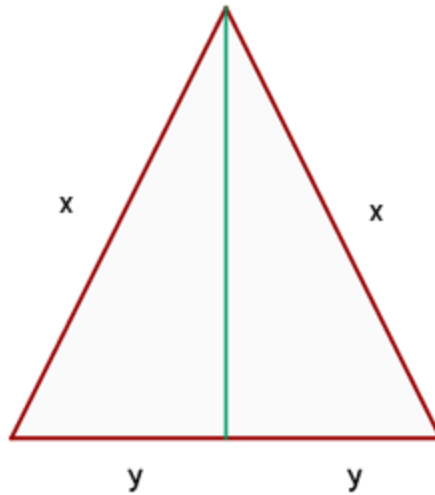
3. Se despeja una variable de la ecuación y se sustituye en la función de modo que nos quede una sola variable.

4. Se deriva la función y se iguala a cero, para hallar los extremos locales.

5. Se realiza la 2ª derivada para comprobar el resultado obtenido.

Ejemplo:

De todos los triángulos isósceles de 12 m de perímetro, hallar los lados del que tome área máxima.



La función que tenemos que maximizar es el área del triángulo:

$$S = \frac{1}{2} \cdot 2y \cdot \sqrt{x^2 - y^2}$$

Relacionamos las variables:

$$2x + 2y = 12$$

$$x = 6 - y$$

Sustituimos en la función:

$$S = y \sqrt{(6 - y)^2 - y^2} = y \sqrt{36 - 12y} = \sqrt{36y^2 - 12y^3}$$

Derivamos, igualamos a cero y calculamos las raíces.

$$S' = \frac{36y - 18y^2}{\sqrt{36y^2 - 12y^3}} \quad \frac{36y - 18y^2}{\sqrt{36y^2 - 12y^3}} = 0$$

$$36y - 18y^2 = 0$$

$$y_1 = 0; \quad y_2 = 2$$

Realizamos la 2ª derivada y sustituimos por 2, ya que la solución $y = 0$ la descartamos porque no hay un triángulo cuyo lado sea cero.

$$S'' = \frac{(36 - 36y) \cdot \sqrt{36y^2 - 12y^3} - (36y - 18y^2) \cdot \frac{72y - 36y^2}{2\sqrt{36y^2 - 12y^3}}}{36y^2 - 12y^3}$$

$$S''(2) = \frac{(36 - 36 \cdot 2) \cdot \sqrt{36 \cdot 2^2 - 12 \cdot 2^3} - (36 \cdot 2 - 18 \cdot 2^2) \cdot \frac{72 \cdot 2 - 36 \cdot 2^2}{2\sqrt{36 \cdot 2^2 - 12 \cdot 2^3}}}{36y^2 - 12y^3}$$

$$S'''(2) = \frac{(-) \cdot \sqrt{+} - 0 \cdot \dots}{+} = \frac{-}{+} = -$$

Por lo que queda probado que en $y = 2$ hay un máximo.

La base ($2y$) mide 4m y los lados oblicuos (x) también miden 4 m, por lo que el triángulo de área máxima sería un triángulo equilátero.